







	_____		_____		ب
	_____		_____		_____
	_____		_____		_____

$$36 \times 5 = 18$$

2. حروف تہجی لکھیں۔

_____	_____	_____	_____	_____	_____	_____	_____	_____	_____
_____	_____	_____	_____	_____	_____	_____	_____	_____	_____
_____	_____	_____	_____	_____	_____	_____	_____	_____	_____
_____	_____	_____	_____	_____	_____	_____	_____	_____	_____
_____	_____	_____	_____	_____	_____	_____	_____	_____	_____
_____	_____	_____	_____	_____	_____	_____	_____	_____	_____
_____	_____	_____	_____	_____	_____	_____	_____	_____	_____
_____	_____	_____	_____	_____	_____	_____	_____	_____	_____

4.5

3. نقطوں والے حروف پر دائرہ لگائیں۔

ض	ص	ش	س	ز	ر	ذ	د	ب
---	---	---	---	---	---	---	---	---

4.5

4. بغیر نقطوں والے حروف پر دائرہ لگائیں۔

ز	ر	ذ	د	خ	ح	ث	ب	ا
---	---	---	---	---	---	---	---	---

2

5. "ط" والے حروف پر دائرہ لگائیں۔

ڈ	ص	ٹ	پ
---	---	---	---